









# A floresta mágica

O cavaleiro encontra-se em A, 7.

8							
7							
6							
5							
4							
3							
2							
1							
	A	B	C	D	E	F	G

• Completa a tabela.

Cavaleiro	A, 7
Mina dos Diamantes	
Casa	
Gruta do Dragão	
Árvore Mágica	
Pântano	
Castelo	
Unicórnio	

Objectivo: Estabelecer relações entre objectos representados, segundo a sua localização no espaço.



Nome: ..... Data: ...../...../.....